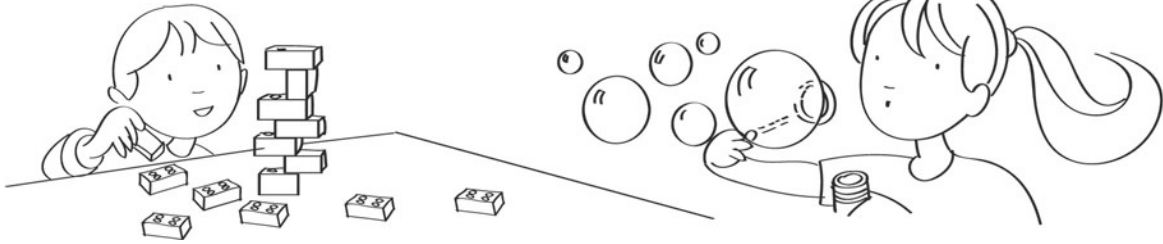


# LA DURATA DEGLI AVVENIMENTI

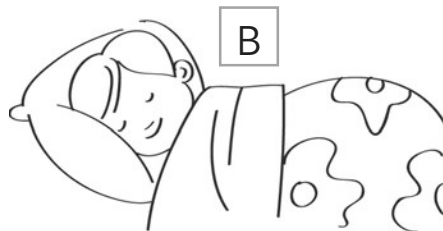
1 Circonda l'azione che dura di più.



2 Circonda l'azione che dura di meno.



3 Segna con una X qual è l'ordine delle azioni dalla più lunga alla meno lunga.



A • C • B

C • A • B

B • A • C

4 Scrivi una azione più lunga di quella disegnata.



---

---

---

5 Scrivi un'azione più corta di quella disegnata.




---

---

---

# LA CONTEMPORANEITÀ

- ◆ Circonda in verde le azioni che possono essere contemporanee durante il giorno e in arancione le azioni che possono essere contemporanee durante la notte.



- ◆ Per ogni frase, scrivi C se le azioni di cui si parla sono contemporanee, S se sono in successione.

11 Mentre Anna esce di casa per andare in ufficio, io preparo tutto ciò che mi occorre per andare a scuola.

12 Il cane di Francesca, Tobia, abbaia sempre mentre il postino passa davanti a casa sua.

13 Prima che arrivino gli zii a trovarci, dobbiamo riordinare la nostra cameretta.

14 Samuel mette in un sacchetto i biscotti che ha preparato la nonna e li porta a casa dalla mamma.

15 Ogni sera, quando la mamma si siede per leggere il suo libro, il mio fratellino inizia a frignare.



# LA MISURAZIONE DEL TEMPO

1 Inserisci il giorno mancante.

mercoledì

\_\_\_\_\_

venerdì


2 Inserisci il giorno mancante.

sabato

\_\_\_\_\_

lunedì

3 Inserisci il mese mancante.



aprile



\_\_\_\_\_




giugno

4 Inserisci il mese mancante.



dicembre



\_\_\_\_\_



febbraio

5 Rispondi.

Quale stagione viene dopo l'inverno? \_\_\_\_\_

6 Completa.

La primavera è la stagione che viene prima dell'\_\_\_\_\_.