

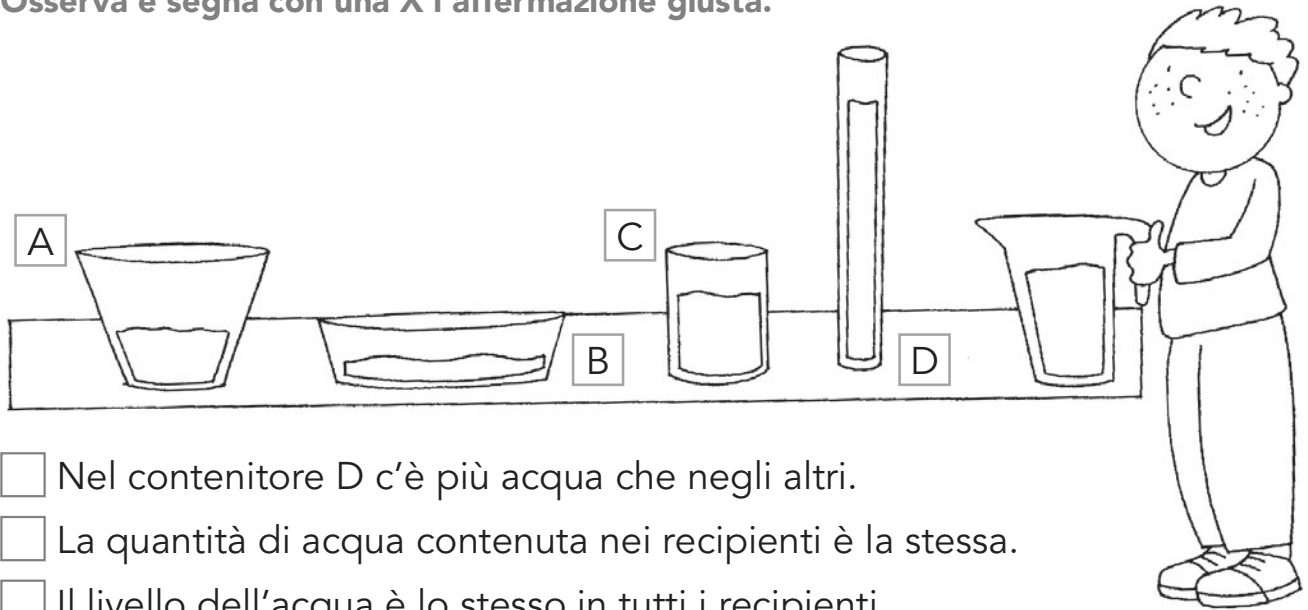
LE IPOTESI

- 1** Se immergi in posizione obliqua una bottiglia vuota in un recipiente pieno d'acqua, vedi salire in superficie delle bolle. Segna con una X da che cosa sono formate.

- Acqua Sapone
 Aria Non si può sapere



- 2** Mauro ha messo un bicchiere colmo d'acqua in ognuno di questi recipienti. Osserva e segna con una X l'affermazione giusta.



- Nel contenitore D c'è più acqua che negli altri.
 La quantità di acqua contenuta nei recipienti è la stessa.
 Il livello dell'acqua è lo stesso in tutti i recipienti.
 Il contenitore B è quello che contiene meno acqua.

- 3** Caterina ha mescolato olio e acqua e ha notato che l'olio galleggia. Segna con una X per quale motivo ciò accade.

- L'olio è più pesante dell'acqua.
 L'olio è unto.
 L'olio è più leggero dell'acqua.
 L'olio è di colore diverso.



LE PROPRIETÀ DELL'ACQUA

◆ Completa segnando con una X.

① Quando l'acqua evapora passa:

- dallo stato gassoso a quello liquido. dallo stato liquido a quello gassoso.
 dallo stato liquido a quello solido. dallo stato solido a quello gassoso.

② La fusione è il passaggio:

- dallo stato solido a quello gassoso. dallo stato liquido a quello solido.
 dallo stato gassoso a quello liquido. dallo stato solido a quello liquido.

③ Le nuvole sono formate da:

- pioggia e neve.
 vapore acqueo.
 ghiaccio.
 acqua e aria.

④ Le falde acquifere si trovano:

- sottoterra in presenza di un terreno ghiaioso.
 sottoterra in presenza di un terreno impermeabile.
 sotto le città. in montagna.

⑤ Osserva il disegno e scrivi al posto giusto le lettere corrispondenti ai termini dati.

A. sorgente • B. evaporazione • C. precipitazioni atmosferiche

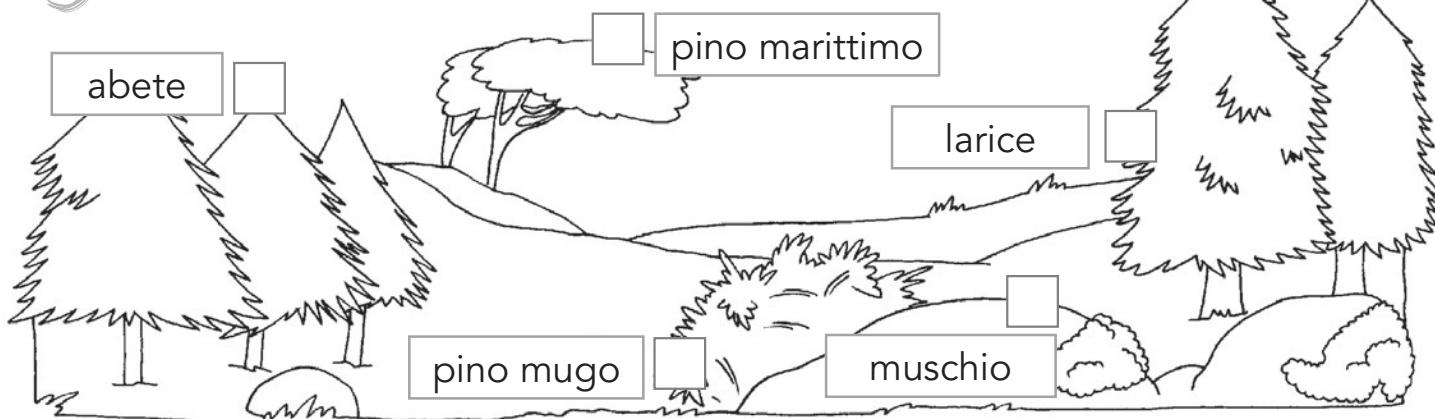


⑥ Quale di questi elementi NON può produrre vapore acqueo? Circondalo.




LE INTERRELAZIONI TRA VIVENTI E NON VIVENTI

1 Quale pianta NON si trova nel suo ambiente? Segna con una X.



2 Quale animale NON si trova nel suo ambiente? Segna con una X.



3 In questa frase ci sono degli errori. Quali parole devi eliminare per renderla vera? Segna con una X.

L'acqua, i pesci, il plancton, le alghe, i molluschi, la medusa, il sale sono alcuni organismi viventi del mare.


Il sale.

L'acqua, il sale e il plancton.

I molluschi e la medusa.

L'acqua e il sale.

4 Nell'ecosistema lago chi, tra questi elementi, è un produttore? Circondalo.



5 Nell'ecosistema prato chi, tra questi elementi, è un consumatore? Circondalo.

